

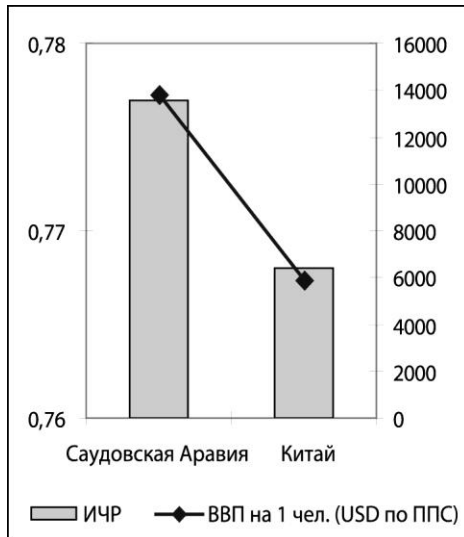
ВОПРОСЫ ДЛЯ 10 – 12 КЛАССОВ

Имя и фамилия

Школа Класс

Учитель географии

1. Сделай на основе рисунка три вывода.



3 балла

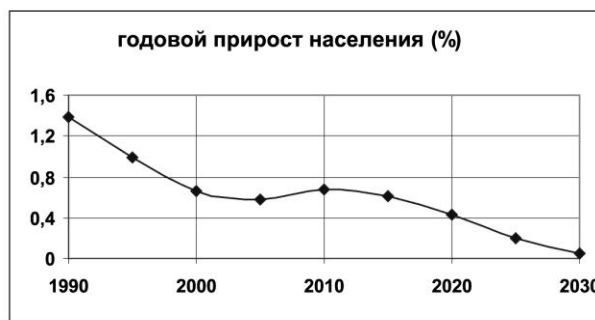
- 1)
- 2)
- 3)

2. Какой график годового прироста населения соответствует Китаю, и какой Индии? Правильные ответы напиши на пунктире.

1 балл



a)



b)

Обоснуй свой выбор.

3 балла

.....

.....

.....

.....

3. Напиши на рисунке в правильной последовательности страны, крупнейшие мировые производители ветровой энергии в 2006 году: Китай, Индия, Дания, США, Германия, Испания.

3 балла

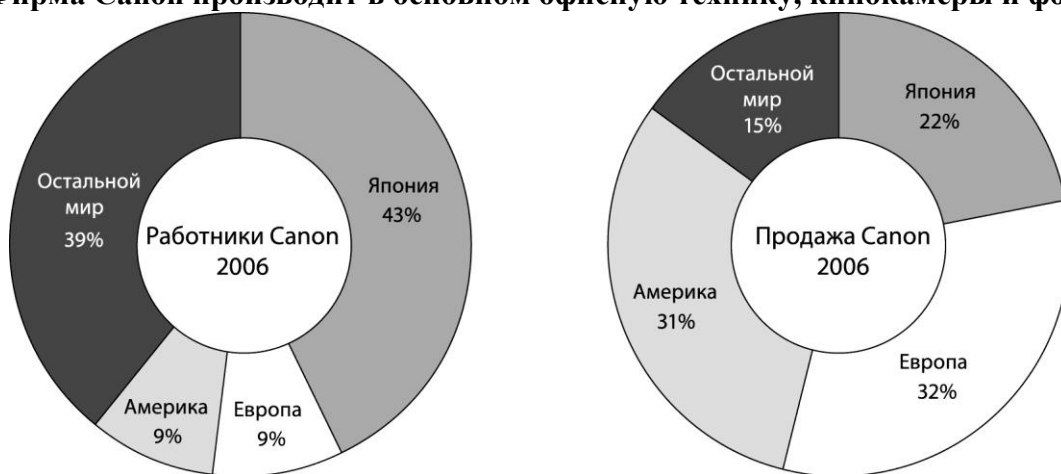


4. Почему примерно 65% мирового производства ветровой энергии и турбин сосредоточено в Европе?

3 балла

- 1)
- 2)
- 3)

5. Фирма Canon производит в основном офисную технику, кинокамеры и фотоаппараты.



3 балла

Объясни особенности мирового размещения производства и продажи продукции Canon.

- 1)
- 2)
- 3)

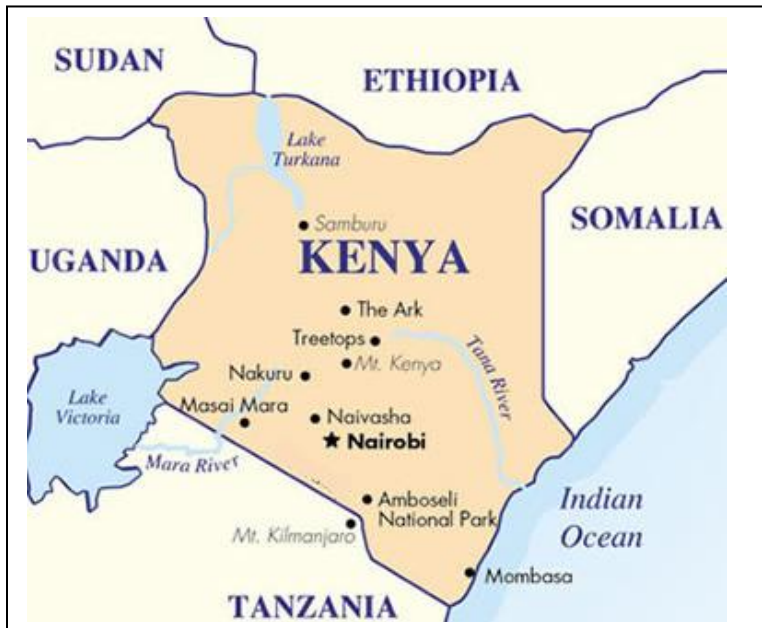
6. Почему в Кении сложилась такая структура производства электроэнергии?

3 балла

- 1)
- 2)
- 3)

Отметь на карте территорию, где в Кении расположены геотермальные электростанции.

2 балла



Производство электроэнергии в Кении 2005



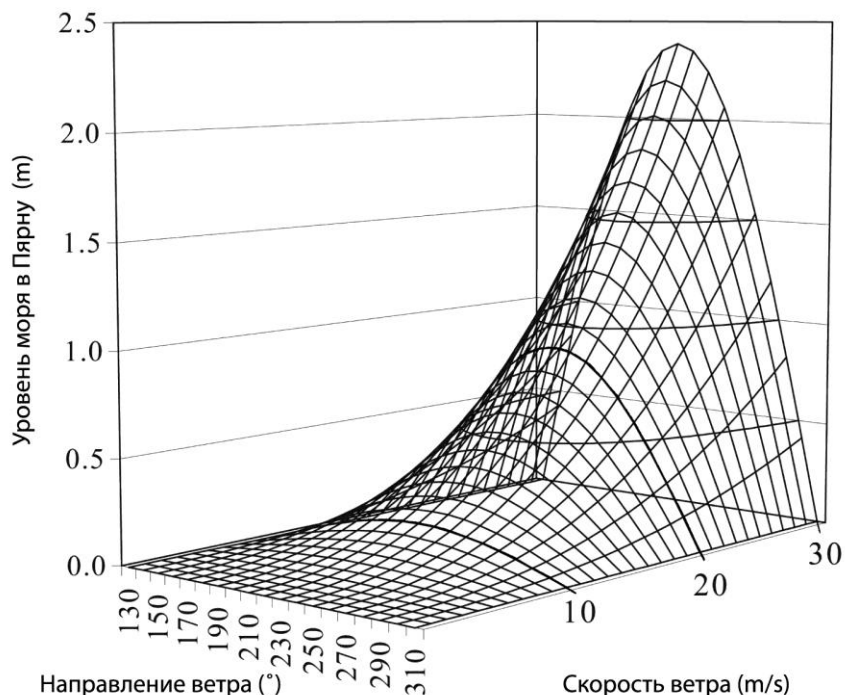
7. Индрек Нейвельт сказал: "Эстонская экономика не может более держаться только на Кренгольме и Элькотеке."

В чем суть этого высказывания?

1 балл

-
-

8. На рисунке показана зависимость уровня воды в Пярнуском заливе от направления (в градусах) и скорости ветра.



Ветер какого направления вызывает наибольший подъем воды в Пярнуском заливе и почему? 2 балла

.....

Каковы примерно максимальные уровни подъема воды при скорости ветра: 2 балла

a) 20 м/сек

b) 30 м/сек

Ученые считают, что, вследствие изменения климата, штормы в Северной Европе будут усиливаться. **Как это может повлиять на Пярну?**

2 балла

.....
.....

9. На каком эстонском острове был найден природный газ? Как этот газ использовался?

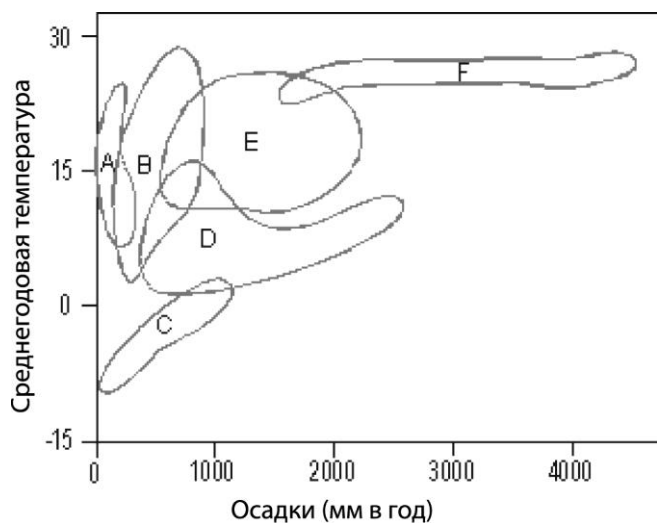
2 балла

.....
.....

10. Одна группа туристов поставила палатку на островке в Вяйнамери, а другая – поставила такую же точно палатку в Тибете, на высоте 5000 м. Обеим группам пришлось пережить шторм со скоростью ветра 30 м/сек. Известно, что у одной из групп палатка не выдержала ветра и порвалась. У какой группы вероятнее всего порвалась палатка? Поясни ответ. 2 балла

.....
.....

11. На схеме показаны природные зоны в соответствии с распределением температуры и осадков. Напиши рядом с названиями природных зон соответствующие им буквы на рисунке.



- дождевой лес
- пустыня
- степь
- лиственный лес.....
- тайга
- тундра

3 балла

12. С уничтожением тропических дождевых лесов на большой территории пропадает и возможность для их восстановления на этой территории. Приведи один обоснованный довод в пользу этого утверждения.

2 балла

.....

.....

13. Назови четыре острова, по которым проходят государственные границы. Укажи для каждого острова государства, между которыми он поделен.

4 балла

Остров	Государства, между которыми поделен остров

14. Где воздействие кислотных осадков на грунт опаснее: в Северной или в Южной Эстонии. Обоснуй свой ответ.

2 балла

.....

.....

Всего 43 балла